

### ТЕСТОВЫЕ ЗАДАНИЯ

Школьный этап Всероссийской олимпиады по технологии  
в номинации «Культура дома и декоративно-прикладное творчество»

8-9 класс

1. В поисково-исследовательский этап творческого проекта не входит...

- А) выбор темы проекта
- Б) сбор информации по теме проекта
- В) выбор наилучшей идеи и её исследование
- Г) изготовление материальной части проекта

Ответ: Г

1 балл

2. Установите соответствие между понятиями и следующим определениями:

	Понятие		Определение
1	Лёгкая промышленность	а	сектор экономики, включающий в себя, производство и сбыт товаров (в том числе и услуг как товара), характеризующихся совокупность привычек, ценностей и вкусов, принятых в определенной среде в определенное время.
2	Арттехнологии	б	наборы методов и средств, поддерживающих этапы реализации нововведения, обеспечивающие качественный рост эффективности процессов или продукции
3	Индустрия моды	в	технологии, преобразующие живой, творческий процесс в продукт, в производство.
4	Инновационные технологии	г	совокупность отраслей промышленности, производящих главным образом предметы массового потребления из различных видов сырья

1 балл

Ответ: 1 - Г; 2 - В; 3 - А; 4 - Б.

3. Основное назначение продуктов из зерновых культур – снабжение организма:

- А) углеводами
- Б) витаминами
- В) белками
- Г) минеральными веществами

Ответ: А

1 балл

4. Какое минеральное вещество активно участвует в водном обмене организма человека, задерживая воду в клетках и тканях?

- А) йод
- Б) кальций
- В) натрий
- Г) железо
- Д) фтор

Ответ: В

1 балл

5. Уже 3000 лет тому назад люди знали об этом фрукте и употребляли его не только в пищу, но и для лечебных целей, а также для проведения некоторых ритуальных обрядов. Так, например, древние греки, восхищенные ароматом и цветом этого фрукта, сделали его эмблемой празднеств во время бракосочетания. Как утверждают ботаники, родиной его является Индия, откуда потом он попал в страны Юго-Восточной Азии, а потом и в Европу. Этот фрукт полезен при различных видах кровоизлияний, является хорошим средством для остановки носового кровотечения. В педиатрии его сок считается одним из самых признанных средств для профилактики рахита у маленьких детей.

1 балл

Итого 3 балла

6. Соедините соответствующие понятия и определения:

Вид тепловой обработки продукта		Описание обработки	
1	Варка	А	Быстрое ошпаривание или обваривание продукта
2	Жаренье	Б	Нагревание продукта в небольшом количестве сока или жидкости
3	Запекание	В	Первоначальная обжарка продукта и дальнейшее его заливание жидкостью и доведение до готовности
4	Тушение	Г	Обработка продукта в духовке
5	Пассерование	Д	Нагревание продукта в воде, молоке, бульоне или на пару
6	Бланширование	Е	Нагревание продукта на горячей сковороде с жиром
7	Припускание	Ж	Легкое обжаривание продукта с жиром или без него

*1 балл*

Ответ: А - 6, Б - 7, В - 4, Г - 8, Д - 1, Е - д, Ж - 5

7. Определите вид теста будет приготовлен по рецептуре:

*0 баллов*

3 стакана муки, 300г сливочного масла, 1ст сахарного песка, 2 яйца, сода на кончике ножа, 1ч. ложка лимонного сока, ванильный сахар по вкусу

Ответ: Бисквит

8. Закончите определение:

*0 баллов*

Количество энергии, получаемой организмом из продуктов питания, называется.....

Ответ: энергетическая ценность

9. Продолжите определение: овоскоп – это ...

*1 балл*

- А) прибор для определения венозного давления
- Б) прибор для определения ожирения животных
- В) прибор для определения качества яиц
- Г) прибор для определения нитратов в овощах и фруктах
- Д) прибор для определения свежести мяса

Ответ: В

10. К какой эпохе относятся представленные на рисунке мужские костюмы:



Рис. 68



Рис. 69




Рис. 70

- А) эпоха Древней Греции
- Б) эпоха Древнего Египта
- В) эпоха Возрождения
- Г) эпоха Рококо

Ответ: В

*1 балл*

11. На рисунках изображены основные части женского русского народного костюма. Установите соответствие рисунков и их названиям.



- А) шугай –  
 Б) сарафан –  
 В) летник –  
 Г) епанечка -

*1 балл*

Ответ: А - 3, Б - 4, В - 1, Г - 2

12. Какие типы сарафанов использовались в русском женском народном костюме: (отметьте знаком + правильный ответ)

- А) туникообразный;  
 Б) косоклинный;  
 В) прямой;  
 Г) все перечисленные

*0 баллов*

Ответ: Б В

13. Разгадайте анаграммы, назовите свойства тканей (составить буквы в правильном порядке)

- А) ь п р д у р т а о и м п е с  
 Б) к ч с ь т г г и о о р п н о и с  
 В) е ь ы п а о с с т м о

Ответ:

- А - драпированность  
 Б - шерстяность  
 В - выносливость

*3 балла*

14. Кто впервые в женской моде предложил брюки и короткую стрижку:

- 1) Пьер Карден  
 2) Кристиан Диор  
 3) Габриэль Шанель  
 4) Вячеслав Зайцев  
 5) Валентин Юдашкин.

*1 балл*

15. Самый распространенный и популярный стиль одежды в современном мире, предполагает современную (модную) повседневную практичную и удобную одежду. Этот стиль может сочетать в себе элементы других стилей, но отличительной особенностью является комфорт и удобство одежды. Существуют подразделения этого стиля на городскую повседневный, элегантный повседневный, дресс-код (или «рабочая пятница»), спортивный повседневный (с элементами спортивной одежды, но не для занятий спортом).

*1 балл*



Ответ: раскал

16. Определите обхват груди, если размер одежды - 42

А) 90см

Б) 70см

В) 88см

Г) 84см

Ответ: Г

17. Из какого волокна делают не намокающие и не тонущие в воде канаты и рыболовные сети...


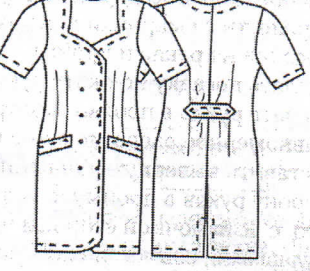
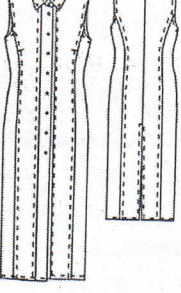
А) койр

Б) рами

В) сезаль

Ответ: А

18. Установите соответствие между описанием модели и рисунком платья.

Описание модели	Рисунки модели	
<p>1. Платье прямое, слегка приталенное, без рукавов с рубашечным воротником. Спереди застёжка на планке, по швам двойная строчка</p>		А
<p>2. Платье с воротником прилегает к талии, затем плавно расширяется к низу. Рукав втачной, короткий. Прорезные карманы, на спине хлястик. Застёжка спереди на пуговицы. Отделка- рельефные швы.</p>		Б
<p>3. Платье с коротким цельнокроеным рукавом, с глубоким овальным вырезом, отрезное ниже линии талии с широкой расклешенной юбкой. Застёжка на пуговицах не доходит до линии талии. По линии талии проложена кулиска для пояса.</p>		В

23. На сколько рублей подешевело швейное изделие стоимостью 1100 рублей, если при распродаже на него была скидка 10%...

- А) 11 руб.
- Б) 110 руб.
- В) 100 руб.
- Г) 10 руб.

Ответ: Б

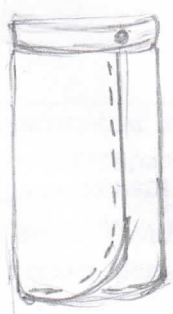
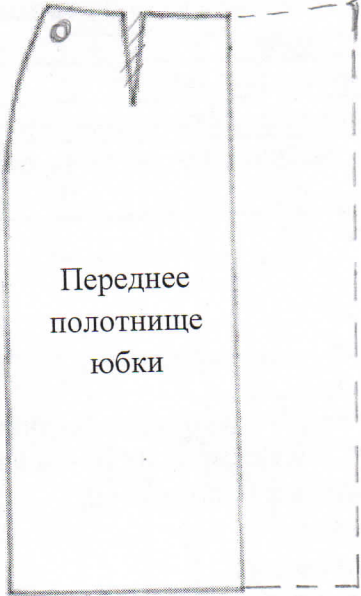
24. Крем для лица, приобретенный покупательницей, вызвал у нее, по заключению врача, аллергическую реакцию. Упаковка крема не содержала соответствующих предупреждений. Какое право потребителя было нарушено?

- А) право на достоверную информацию о товаре
- Б) право на качественный товар
- В) право на безопасность товара для жизни и здоровья
- Г) право на замену или возврат некачественного товара

Ответ: А

**25. Творческое задание.**

1. По описанию модели выполните эскиз юбки (в первой колонке таблицы)
2. Выполните моделирование юбки в соответствии с эскизом (во второй колонке таблицы)
3. Предложите ткань для данной модели и правила ухода за ней (словами или символами)
4. Рассчитайте количество ткани для изготовления юбки, если длина изделия в готовом виде – 65 см.

Эскиз и описание модели	Нанести на чертеж модельные изменения
<p>1. Юбка прямая с запахом на переднем полотнище (запах до вытачки) и скруглённым углом на правой части переднего полотнища. Широкий притачной пояс застегивается спереди на пуговицу.</p> 	<p>2.</p>  <p>Переднее полотнище юбки</p>

3. табарвин, шотландка; деликатная стирка, +77 утюжка через проутюжильник

4.  $ДП + 20 см = 65 + 20 = 85 см$   
(0,85 м.)

Итого: 31 балл